

نام آموزشگاه : ولایت فقیه

وزارت آموزش و پرورش

نام خانوادگی : .....

کلاس : چهارم 1

اداره کل آموزش و پرورش استان آذربایجان غربی

ماده درسی : ریاضی

نوبت امتحانی : مستمر

معاونت اداره کل و مدیریت آموزش و پرورش خوی

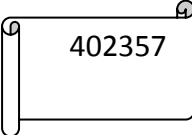
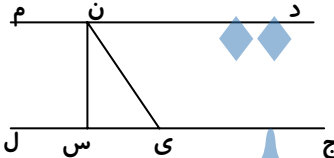
صفحه : 1



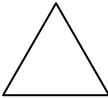

تعداد صفحه : 2

تعداد سؤال : 19

مدت امتحان : 45 دقیقه

تاریخ امتحان :

ردیف	شرح سؤالات	بارم
1	<p>با توجه به عدد مقابل به سؤال ها پاسخ دهید .</p> <p>الف ) این عدد دارای چند طبقه است ؟ نام ببرید .</p> <p>ب ) عدد را با حروف بنویسید .</p> <p>ج ) کدام رقم ارزش مکانی کم تری دارد ؟</p>	
2	<p>در جای خالی عدد مناسب بگذارید .</p> <p><math>236 + ( 58 + 120 ) = 236 + \dots = \dots</math></p> <p><math>745239 = 700000 + \dots + 5000 + 200 + \dots + 9</math></p>	
3	<p>با توجه به شکل به پرسش ها جواب دهید .</p> <p>الف ) زاویه ی ( ج ی ن ) چه نوع زاویه ای است ؟</p> <p>ب ) کدام پاره خط بر خط ( ج ل ) عمود است ؟</p> <p>ج ) یک زاویه ی راست نام ببرید .</p> <p>د ) در شکل چند نیم خط وجود دارد ؟</p>	
4	<p>پاره خطی به طول 4 س رسم کرده و عمود منصف آن را بکشید .</p>	
5	<p>یک کارخانه ی ماشین سازی 700 دستگاه اتومبیل به اراک و 275 دستگاه اتومبیل به کرج فرستاد . اگر تولید این کارخانه 1267 اتومبیل باشد ، چند اتومبیل در کارخانه مانده است ؟</p>	
6	<p>عدد « نه صد و نه هزار و نه » را با رقم بنویسید .</p>	
7	<p>درباره ی عبارت زیر مسئله بنویسید و حاصل آن را حساب کنید .</p> <p><math>8 \times ( 20 + 12 ) =</math></p>	

	<p>برای هر زاویه اندازه ی مناسب بنویسید .</p> <p>الف ) زاویه ی تند ..... درجه</p> <p>ب ) زاویه ی نیم صفحه ..... درجه</p> <p>ج ) زاویه ی قائمه ..... درجه</p> <p>د ) زاویه ی باز ..... درجه</p>	8
	<p>در ضرب <math>20 = 4 \times 5</math> به عدد 20 ..... می گوئیم .</p>	9
	<p>یک 6 ضلعی از ..... پاره خط درست شده است .</p>	10
	<p>واحد اندازه گیری مایعات ..... است .</p>	11
	<p>بر روی یک خط راست ..... پاره خط می توان یافت .</p>	12
	<p>قیمت 7 مداد 210 تومان است . قیمت 4 مداد چند ریال است ؟</p>	13
	<p>خارج قسمت تقسیم روبرو کدام است ؟</p> <p>الف ) 2114 ( )      ب ) 20114 ( )      ج ) 21014 ( )      د ) 21140 ( )</p> <p><math>80456 \div 4 =</math> <input type="text"/></p>	14
	<p>تعداد خطّ تقارن هر شکل را زیر آن بنویسید .</p> <p> ( )       ( )       ( )       ( )</p>	15
	<p>متوازی الاضلاعی رسم کنید که اندازه ی ضلع های متوالی آن به ترتیب 3 و 5 و زاویه های آن قائمه باشد . نام دیگر آن چیست ؟</p>	16
	<p>اگر در یک تقسیم مقسوم علیه 9 و خارج قسمت 38 و باقی مانده 7 باشد ، مقسوم چند است ؟</p>	17
	<p>در <input type="text"/> چه رقمی قرار دهیم تا عدد حاصل هم بر 2 وهم بر 5 و هم بر 3 بخش پذیر باشد ؟</p> <p>8406 <input type="text"/></p>	18
	<p>کسر مقابل را با رسم شکل نشان دهید .</p> <p><math>\frac{3}{9}</math></p>	19

موفق باشید؛ علیزاده